

LA TACHE CARTOGRAPHIQUE : CARTES, SCHEMAS, CROQUIS

PROPOSITIONS D'EVALUATIONS

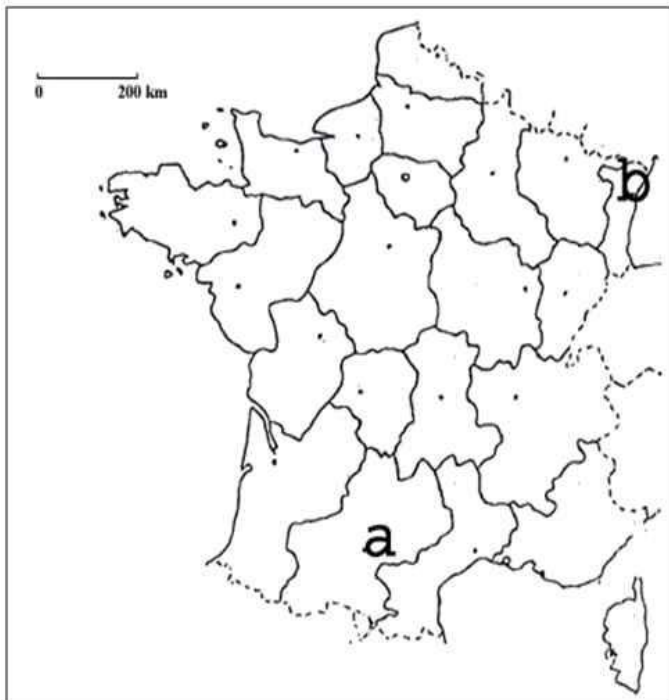
1- Localisation :

a- Localisez et nommez votre région sur la carte.

b- Indiquez sa métropole régionale.

c- Indiquez 2 Etats limitrophes de la France.

2- Expliquez ce qu'est une aire urbaine. Donnez le nom des aires urbaines indiquées par les lettres **a** et **b** sur la carte ci-dessous.

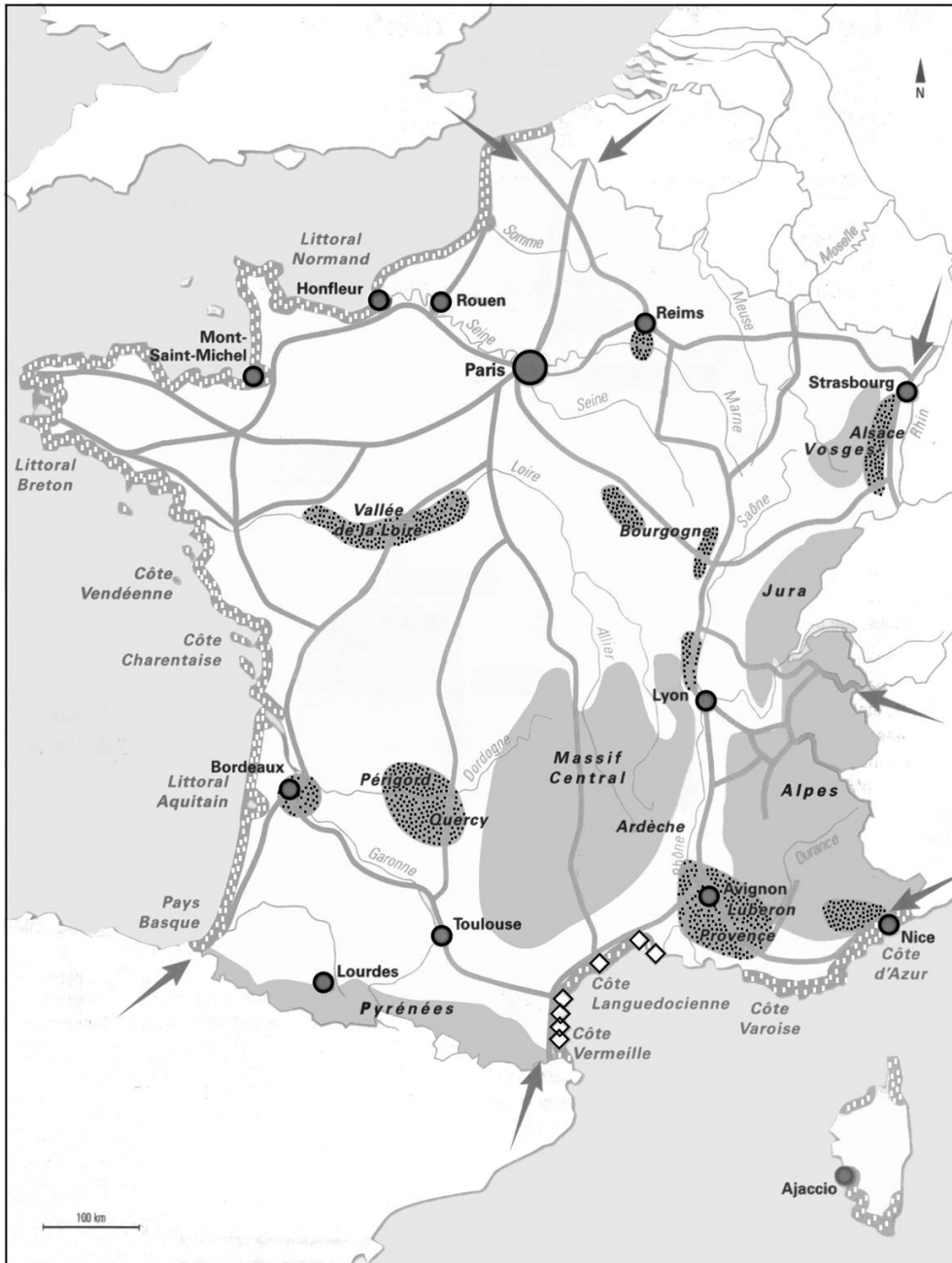


À partir de la carte proposée par le manuel Belin page 271, nous proposons plusieurs exercices de réalisation de tâches cartographiques.
 Pour plus de lisibilité en reprographie, nous simplifions la carte reproduite ci-dessous et sa légende et nous passons en gris.



TITRE: Les espaces touristiques en France.





Repérage

1. Nommer et localiser 3 pays autres que la France appartenant à l'UE.
2. Placer les mers et océans bordant la France.

Différentes tâches cartographiques peuvent être demandées, seules ou simultanément:

1. Quelle est la signification des flèches? Justifiez le choix de ce figuré. _____

2. Indiquez à côté de chacun des figurés ci-dessous s'ils correspondent au tourisme balnéaire, au tourisme de montagne ou au tourisme culturel. _____



3. Citez une région en exemple pour chaque type de tourisme. Une région de tourisme balnéaire: _____

Une région de tourisme de montagne : _____

Une région de tourisme culturel: _____

4. Quel figuré peut-on utiliser pour représenter un parc à Thème? Placez et nommez le parc à thème de votre choix sur la carte.

5. Qu'a-t-on représenté par les losanges? _____

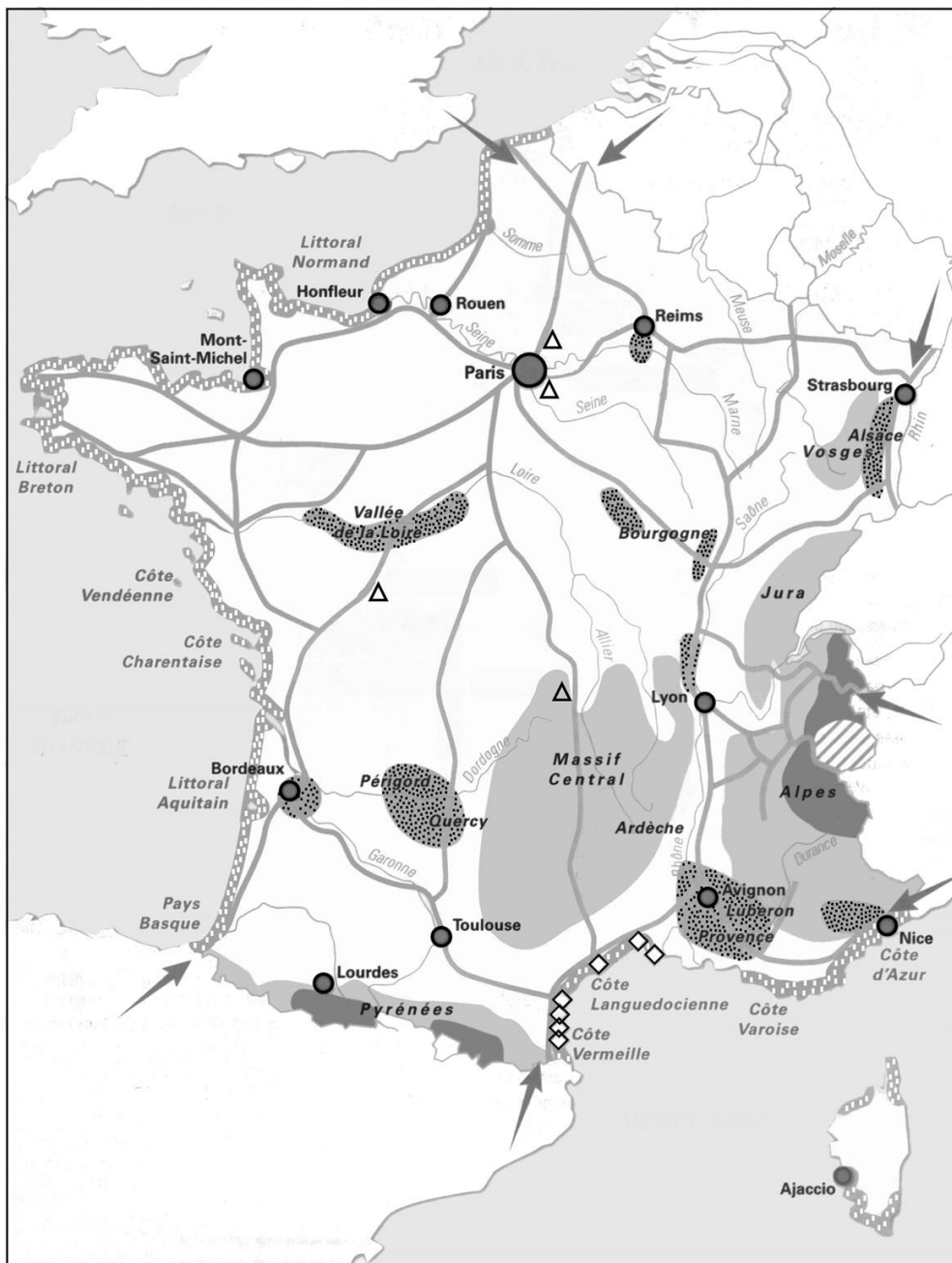


6. Dans quelle région se trouvent ces aménagements? _____

amé












Autre proposition, à partir de la même carte.



→ En dehors de la légende, quels sont les 3 éléments qui manquent pour une bonne compréhension de cette carte?

→ Réorganisez la légende.

Les différents éléments de la légende de cette carte vous sont donnés ci-dessous dans le désordre, à vous de reconstruire la légende en complétant le plan proposé .

Figuré	Libellé
	Tourisme culturel
	Tourisme balnéaire
	Principaux flux de touristes étrangers
	Stations intégrées littorales
	Espaces peu touristiques
	Tourisme de montagne
	Grands parcs à thème
	Grands axes de transport
	Concentration de stations intégrées de ski

Plan de la légende à recomposer:

1. Des déplacements touristiques:

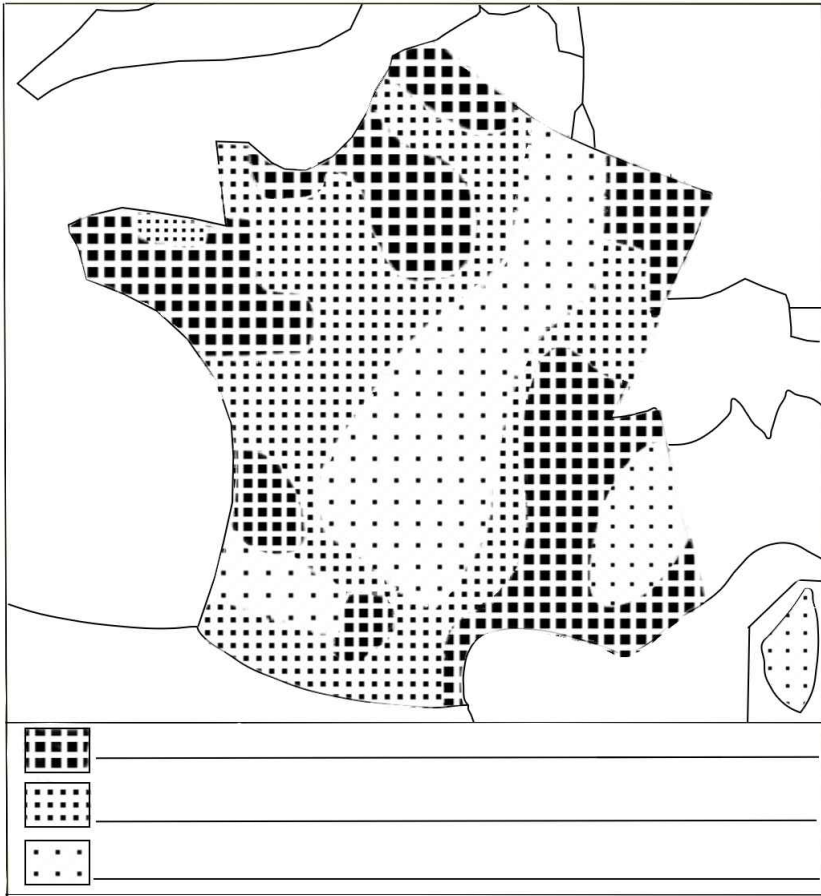
* _____
 * _____

2. Les espaces touristiques:

* _____
 * _____
 * _____
 * _____

3. Les grands aménagements touristiques:

* _____
 * _____
 * _____



Titre: _____

Nous terminons par une activité à partir de la carte de la répartition de la population française proposée par le manuel hachette, page 301.

- Donnez un titre à cette carte
- Complétez la légende.
- Justifiez les figurés utilisés. _____
